

1. 考生要写清楚学校、班级和姓名。
2. 字迹要写清楚，卷面要整洁。

注意
事项

姓名

班级

学校



一、填一填。(每空1分，共23分)

1. $5+5+5+5$ 改写成乘法算式是 ()，读作 ()。

2. 根据“三七二十一”这句乘法口诀，写出两个乘法算式和两个除法算式。

3. 一个除法算式中，被除数和除数相同，且都不为0，商是 ()。

4. 在 \bigcirc 里填上“ $>$ ”“ $<$ ”或“ $=$ ”。

$3 \times 3 \bigcirc 3 + 3 + 3$

$5 \times 3 \bigcirc 20 - 6$

$13 + 6 \bigcirc 6 \times 3$

$15 \div 5 \bigcirc 8 - 4$

$3 \times 6 \bigcirc 12$

$4 + 4 \bigcirc 4 \times 4$

$4 \times 5 \bigcirc 4 + 5$

$3 \times 4 \bigcirc 6 \times 2$

$36 \div 6 \bigcirc 7$

5. 小刚前面有9个人，后面有11个人，这一小队共有 () 人。

6. 3时整，分针与时针组成 () 角；3时30分，分针与时针组成 () 角。

7. 在三角板上，最多有 () 个直角，最少有 () 个锐角。

8. 有8块糖，4个小朋友平均分，每人分 () 块，要用到口诀 ()。

二、判断。(对的打“√”，错的打“×”) (每题2分，共10分)

1. 两个乘数都是5，积就是10。 ()

2. $4 \times \bigcirc < 13$ ， \bigcirc 里最大填3。 ()

3. 老师用的大三角板上的直角比同学们用的小三角板上的直角大。 ()

4. 10分成5份，每份是2。 ()

5. 从9个十里去掉5个十和4个一，就是56。 ()



三、选一选。(将正确答案的序号填在括号里)(每题2分,共10分)

1. 4×5 表示 ()。

①5个4相加

②5个4相乘

③5和4相加

2. 3个6相加写成乘法算式是 ()。

① $3+6$

② 6×3

③ $6+6+6$

3. 下列算式中,与 2×3 得数相同的除法算式是 ()。

① $12 \div 2$

② $12 \div 6$

③ 3×2

4. 角的大小和两条边的长短 ()。

①有关

②无关

③不能确定

5. $4+4+4+3$,不可以改写成算式 ()。

① 4×4

② $4 \times 3+3$

③ $4 \times 4-1$

四、算一算。(共34分)

1. 用你喜欢的方法计算。(每题3分,共18分)

$$75+18+2$$

$$74-26-17$$

$$67-38+25$$

$$45-27+33$$

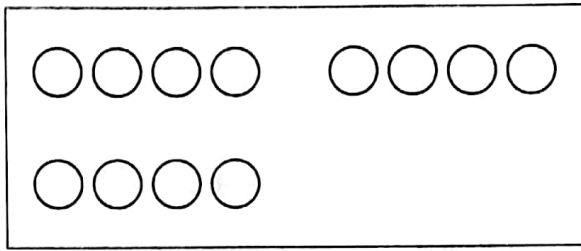
$$90-45-15$$

$$38+46-55$$





2. 分分, 画画, 写算式。(每题 4 分, 共 8 分)



$$\square \bigcirc \square = \square$$



$$\square \bigcirc \square = \square$$

3. 看图列式计算。(每题 4 分, 共 8 分)



$$\square \times \square = \square$$

$$\square \times \square = \square$$

$$\square \div \square = \square$$

$$\square \div \square = \square$$



$$\square \times \square = \square$$

$$\square \times \square = \square$$

$$\square \div \square = \square$$

$$\square \div \square = \square$$

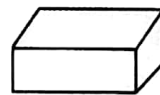
五、下列图形分别是 从哪些方向看到的? (共 5 分)



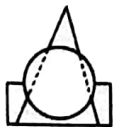
球



圆锥



长方体



()



()



()



六、解决问题。(共 18 分)

1. 小朋友们比赛踢毽子, 第一小组踢了 28 下, 第二小组踢的比第一小组多 19 下, 两个小组一共踢了多少下?

2. 妈妈给小亮买了 5 盒铅笔, 每盒 6 支。妈妈一共买了多少支铅笔?

3. 现在合唱队有多少人?



原来合唱队有 45 人。



毕业了 22 人, 又增加了 18 人。

附加题 (共 10 分)

一共有多少个樱桃?



第四堆只有 3 个樱桃呀。

